

令和8年度

日章学園

鹿児島育英館高等学校

入学試験問題

社 会

(時間 45 分)

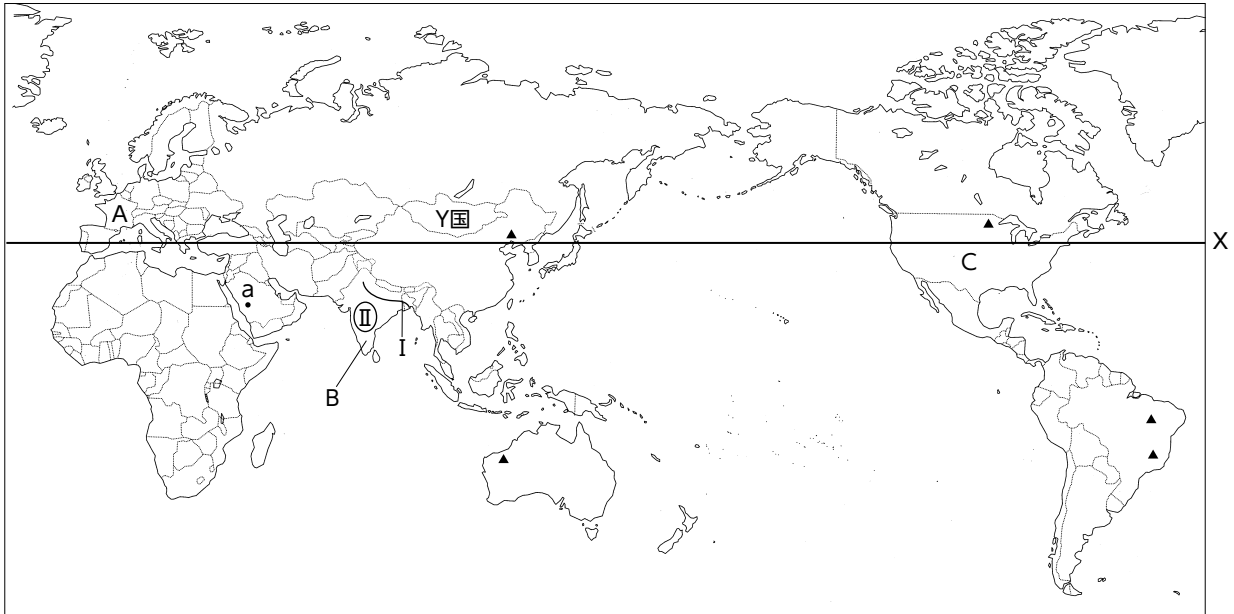
(注 意)

- 1 「始め」の合図があるまで、このページ以外のところを見てはいけません。
- 2 問題は、7 ページです。解答用紙は1 枚です。
- 3 「始め」の合図があったら、まず解答用紙に受験番号、中学校名と氏名を記入しなさい。
- 4 答えは、必ず解答用紙に記入しなさい。
- 5 印刷がはっきりしなくて読めないときは、だまって手をあげなさい。
問題内容や答案作成上の質問は認めません。
- 6 「やめ」の合図があったら、すぐ鉛筆をおき、解答用紙だけを裏返しにして、机の上におきなさい。

1 各問に答えなさい。

I 次の略地図1を見て、各問いに答えなさい。

略地図1



問1 Xが示す緯度として、適当なものを次の中から選び、記号で答えなさい。

ア 北緯20度 イ 北緯30度 ウ 北緯40度 エ 北緯50度

問2 I・IIはそれぞれ河川と高原を示したものである。河川名・高原名の組み合わせとして正しいものを、次の中から選び、記号で答えなさい。

ア I ガンジス川 II チベット高原 イ I ガンジス川 II デカン高原
ウ I インダス川 II チベット高原 エ I インダス川 II デカン高原

問3 Y国では、写真のようなゲルと呼ばれる住居に暮らして遊牧をしている人々がいる。遊牧とはどのような牧畜方法ですか、解答欄の書き出しに続いて、説明しなさい。なお、その際、必ず「テント式の家」という言葉を使用しなさい。

写真



問4 略地図中の▲は、ある鉱産資源の主な産出地です。その鉱産資源名を答えなさい。また、次の表は、その鉱産資源・石炭・原油・天然ガスの産出量上位5か国とその割合を表したものです。その中から、▲の鉱産資源を表すものを選び、数字で答えなさい。

①		②		③		④	
国名	(%)	国名	(%)	国名	(%)	国名	(%)
アメリカ	15.2	アメリカ	24.5	オーストラリア	34.2	中国	57.9
サウジアラビア	13.6	ロシア	16.4	ブラジル	16.5	インド	10.9
ロシア	13.1	イラン	6.3	中国	14.9	インドネシア	8.4
イラク	5.7	中国	5.2	インド	10.2	オーストラリア	5.5
中国	5.3	カナダ	4.8	ロシア	4.0	ロシア	5.0

(統計要覧2025年版より)

問5 次の資料は、略地図1中のA～C国と日本の人口密度などについてまとめたものです。次のア～エは、日本・A～C国のいずれかである。日本とC国はそれぞれどれですか、記号で答えなさい。また、資料中の空欄に入る数字を答えなさい。

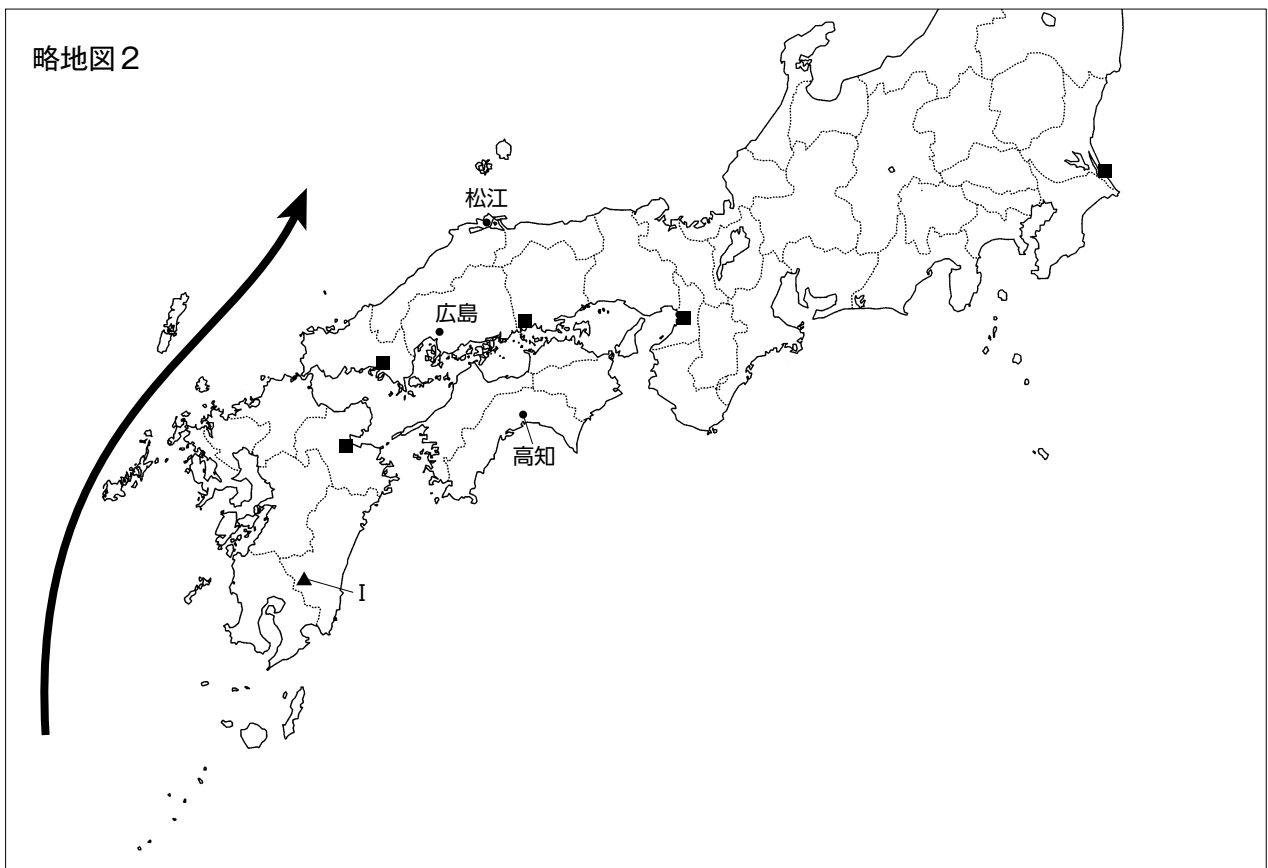
	人口密度 (人/km ²)	1人当たりの 国民総所得(ドル)	原子力発電の 割合(%)	産業別人口に占める第 ()次産業の割合(%)
ア	437	2,400	2.5	31.0
イ	107	45,290	62.1	78.2
ウ	322	42,550	5.5	73.3
エ	35	76,590	17.9	79.1

(統計要覧2025年版より)

問6 略地図1中の都市aは、イスラム教の聖地である。この都市名を答えなさい。また、次のイスラム教についての説明を読んで、その説明として適当でないものを選び、記号で答えなさい。

- ア 食事については、豚は神聖な動物と考えられており、食べることが禁止されている。
- イ 一日に5回聖地にあるカーバ神殿に向かって礼拝を行う。
- ウ ある時期の1か月程度、日の出から日没まで一切の飲食をしない断食を行う。
- エ 女性が人前で肌や髪を出すことを禁じている。

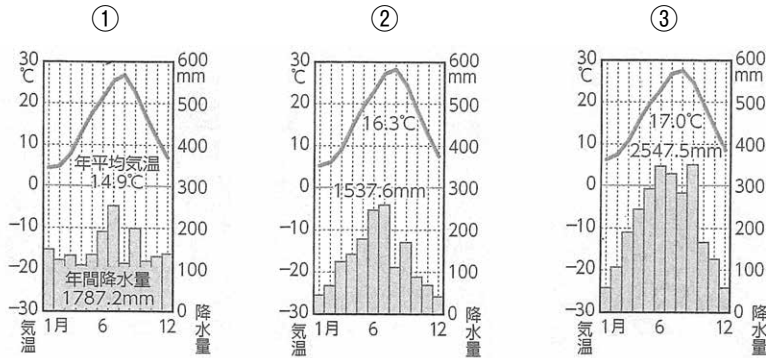
II 次の略地図2を見て、各問いに答えなさい。



問1 Iは有史以降も噴火を繰り返している標高1421mの活火山であり、2025年の火山活動も活発な状態であった。この火山名を答えなさい。

問2 →は海流の流れを示したものです。海流名を答えなさい。また、この海流は、暖流か、寒流のどちらか、選びなさい。

問3 次の①～③の雨温図は、略地図2中に示した松江・広島・高知のものです。それぞれの都市の組み合わせとして、正しいものを選び、記号で答えなさい。



- ア ①松江 ②広島 ③高知 イ ①松江 ②高知 ③広島
 ウ ①広島 ②松江 ③高知 エ ①広島 ②高知 ③松江
 オ ①高知 ②松江 ③広島 カ ①高知 ②広島 ③松江

問4 ■は、石油化学コンビナートの分布を示している。資料は日本国内の原油の生産量と海外からの輸入量を示している。資料を踏まえ、石油化学コンビナートはどのような場所に立地していると考えられますか、簡単に説明しなさい。

資料

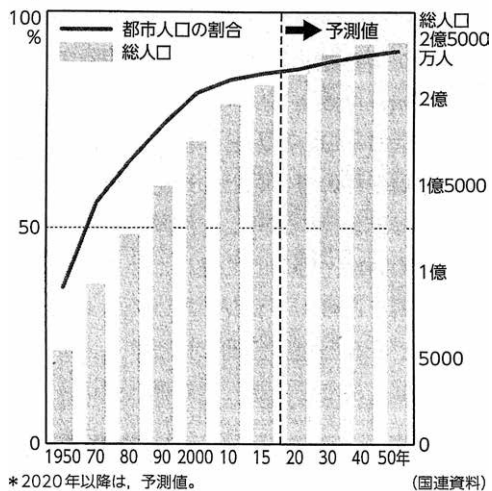
	2022 (千 kL)
国内での生産量	421
海外からの輸入量	158,642

(日本国勢図会2023/24より)

Ⅲ 次の問いに答えなさい。

問1 次のグラフ1は、ブラジルの総人口と都市人口の割合の変化を表したものです。ブラジルでは、沿岸部と内陸部との経済格差が大きく、大都市へ移住する人々が多くなっており、ブラジルの都市では、人口の急激な増加で、スラム（ファベラ）とよばれる、治安や生活環境の悪い地区が多く形成されている。なぜ、ブラジルでは、大都市への人口集中が進んでいるのか、その理由を説明しなさい。なお、その際、「仕事」という言葉を使いなさい。

グラフ1



スラム（ファベラ）

2 次の表や図などを見て、各問いに答えなさい。

I 次の表は、世界の主な宗教について、まとめたものである。各問いに答えなさい。

宗教名	仏教	②	④	キリスト教	イスラム教
創始者	①	特定の開祖をもたない	ヤハウエ	イエス	⑤
特徴	身分制度に反対した。	③という身分制度が見られる。	選民思想を持つ。聖典は「旧約聖書」	人間の平等と愛を説く。④をもとに開かれた。	偶像崇拝を否定。教典は「⑥」

問1 表中の①と⑤に当てはまる創始者の名前として正しい組み合わせを選び、記号で答えなさい。

- ア ①シャカ ⑤アッラー イ ①ガネーシャ ⑤ムハンマド
ウ ①シャカ ⑤ムハンマド エ ①ガネーシャ ⑤アッラー

問2 ②の宗教の発祥地インドでは、1857年シパーヒーを中心として大規模な反乱が起きた。その後ある国が反乱を鎮め、植民地支配を始めた。その国はどこか答えなさい。

問3 ②の宗教は、③の身分の1つが執行する祭式を中心とした宗教とインドの民間信仰が融合されて成立した宗教である。③で見られる制度のうち、最上位と最下位の身分の名称をそれぞれ答えなさい。

問4 ④の宗教の信徒は、第二次世界大戦時に『わが闘争』を著した人物によって迫害を受けた。その人物は誰か、答えなさい。

写真





問5 キリスト教について、右の写真は江戸時代の日本で、キリスト教徒ではないことを証明するために、どこかの寺の信徒となることを定め、まとめたものである。このようにどの宗教を信仰しているかを調べる制度を何というか。



問6 イスラム教について、⑥に当てはまるものを選び、記号で答えなさい。

- ア ハンムラビ法典 イ 論語
ウ 経 エ コーラン

II 次の表は、武士の一覧とそれに関する写真である。各問いに答えなさい。

名前	坂上田村麻呂	②	③	徳川慶喜
主な出来事	802年に①を築く	後の鹿苑寺を建てる	後の慈照寺を建てる	1867年に④を実施した
				

問1 ①に当てはまる語句として正しいものを選び、記号で答えなさい。

- ア 胆沢城 イ 志波城 ウ 多賀城 エ 太宰府 オ 江戸城

問2 ②と③に当てはまる人物として正しい組み合わせを選び、記号で答えなさい。

- ア ②足利尊氏 ③足利義満 イ ②足利義満 ③足利義政
ウ ②足利義政 ③足利義昭 エ ②足利義昭 ③足利尊氏

問3 ④を実施するにあたり、徳川慶喜に政権を天皇に返還することを勧めた当時の土佐藩主は誰か。

問4 武士の一覧の人物たちに共通する役職を答えなさい。また、その役職は本来どのような目的で設けられたか、簡潔に説明しなさい。

3 次のⅠ・Ⅱの各問いに答えなさい。

Ⅰ 公民の授業で2つのグループが、発表したものを読み、各問いに答えなさい。

先生：今年、日本国憲法公布80年目にあたります。そこで、憲法改正の論議について、グループごとに調べてもらったことを発表してもらいます。まず、Aグループの皆さんお願いします。

Aグループ：私たちは、2025年の憲法記念日に、NHKが行った、憲法改正の必要性に関する世論調査と過去同時期に行った調査の結果（表Ⅰ～Ⅲ）を調べました。

表Ⅰ 憲法改正

(%)

	必要ある	必要ない	どちらともいえない	その他
2025年	39	17	39	5
2024年	36	19	41	4
2023年	35	19	42	4
2022年	35	19	42	4
2021年	33	20	41	6

表Ⅱ 「必要ある」理由

(%)

①安全保障環境変化に対応	46
自衛権・自衛隊の存在明確に	24
②あらたな権利盛り込むべき	12
アメリカに押し付けられた憲法	11

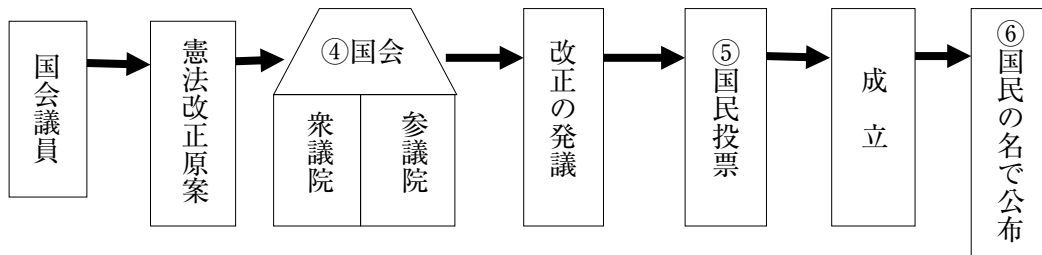
表Ⅲ 「必要ない理由」

(%)

③憲法第9条 守りたい	57
国民の中に定着	14
基本的人権守られている	13
国際関係を損なう	8

Aグループ：この結果より、2021年より憲法改正を「必要とする」割合が、増加傾向にあります。2025年の調査で「必要ある」と回答した人の理由で、1番多かったのは、「安全保障環境変化」です。また、「必要ない」と回答した人の理由で、1番多かったのは、「憲法第9条 守りたい」となっています。つまり、憲法改正の大きな論点の1つが、安全保障環境の変化にともなう憲法第9条の扱いであることが分かります。

Bグループ：私たちは、憲法改正の手続きについて調べました。



Bグループ：この図は、2022年6月最終改正が行われた、「日本国憲法の改正手続に関する法律」に基づくものです。このように、最高法規である憲法が安易に改正されることのないようなくみをとつつ、最終的な意思決定を委ねたものとなっています。

先生：2つのグループの皆さん、ありがとうございました。次回は、皆さんの発表を掘り下げてくださいと思います。

資料索引 <https://www3.nhk.or.jp/news/html/20250503/k10014796241000.html>

問1 下線部①について、日本の安全保障の内容として誤っているものを1つ選び、記号で答えなさい。

ア 日米安全保障条約を結び、日本がもし武力攻撃を受けた場合は、防衛のためにアメリカが日本と共同して対処する義務を負う。逆に、アメリカが武力攻撃を受けた場合は、日本がアメリカと共同して対処する義務を負う。

イ 湾岸戦争をきっかけに、国際社会における日本の貢献についての議論が起こり、日本の国際貢献のあり方の1つとして、国際平和協力法が成立した。

ウ 国外の戦争や紛争時には、米・英軍などの平和維持活動を後方で支援するため、政府が、自衛隊を非戦闘地域とする現地に派遣したこともあった。

エ 国連への協力は、積極的に平和の維持・創出に貢献していくという日本の外交の考え方に合うものとする見方がある。

問2 下線部②について、日本国憲法公布後のあらたな権利に該当するものを全て選び、記号で答えなさい。

ア 社会権 イ 環境権 ウ 自己決定権 エ 知る権利

問3 下線部③について、次の日本国憲法第9条の条文の一部を見て、条文内にある空欄□に適する語句を答えなさい。

「国権の発動たる□と、武力による威嚇又は武力の行使は、国際紛争を解決する手段としては、永久にこれを放棄する。」

問4 憲法改正の手続きの図にある④国会が憲法改正の発議を行う際の要件として正しいものを1つ選び、記号で答えなさい。

ア 衆議院と参議院の両院で、総議員の過半数の賛成が必要。

イ 衆議院と参議院の両院で、総議員の3分の2以上の賛成が必要。

ウ 衆議院と参議院の両院で、出席議員の過半数の賛成が必要。

エ 衆議院と参議院でこれと異なった議決をした場合は、衆議院で出席議員の3分の2以上の賛成が必要。

問5 憲法改正の手続きの図にある⑤国民投票で、憲法改正の手続きとして必要な要件として正しいものを1つ選び、記号で答えなさい。

ア 満18歳以上の国民に、憲法改正国民投票の権利を認め、賛成の投票数と反対の投票数の合計である有効投票の過半数の賛成が必要。

イ 満18歳以上の国民に、憲法改正国民投票の権利を認め、賛成の投票数と反対の投票数の合計である有効投票の3分の2以上の賛成が必要。

ウ 満20歳以上の国民に、憲法改正国民投票の権利を認め、賛成の投票数と反対の投票数と無効投票数の合計である投票総数の過半数の賛成が必要。

エ 満20歳以上の国民に、憲法改正国民投票の権利を認め、賛成の投票数と反対の投票数と無効投票数の合計である投票総数の3分の2以上の賛成が必要。

問6 憲法改正の手続きの図にある⑥国民の名で公布を行うのは誰か。正しいものを1つ選び、記号で答えなさい。

ア 内閣総理大臣 イ 法務大臣 ウ 最高裁判所長官 エ 天皇

II 次の〔A〕の文と〔B〕の会話文を読んで、各問いに答えなさい。

〔A〕

景気は、周期的に変動をする。この景気の変動には、好況（好景気）の時期と、①不況（不景気）の時期があり、国民生活にも大きな影響をもたらす。そこで、②政府や中央銀行は、景気を安定させ国民が安心して生活を営めるように努めている。

また、国や地方公共団体は、生活基盤を整えたり産業を育成したりするなど、積極的に経済活動を行っている。そのため、国民は③税金を支払い、国や自治体がこれらの経済活動を行えるようにしなければならない。

問1 下線部①の不況（不景気）の時期の説明として、誤っているものを全て選び、記号で答えなさい。

- ア 企業の倒産が大量に発生する。
- イ 企業は商品が大量に売れるため、生産量を増やす。
- ウ 企業は人件費を抑えるため、リストラなどを行うので、失業者が増える。
- エ 企業の新規採用数が減るため、就職難となる。

問2 下線部②に関連して、(1)、(2)の各問いに答えなさい。

- (1) 政府が景気の調整を目的に、公共支出を多くしたり減らしたり、増税をしたり減税を行ったりすることを何というか、答えなさい。
- (2) 中央銀行が景気の調整を目的に、お金の量を調整するために公開市場操作などを行うことを何というか、答えなさい。

問3 下線部③の税金について、税金を納める人とその税金を負担する人が同じ税を、直接税といますが、直接税に該当するものを全て選び、記号で答えなさい。

- ア 所得税 イ 法人税 ウ 住民税 エ 消費税

〔B〕

Aさん：情報社会の中で生きる私たちは、スマートフォンなしだと生活できないかも。

Bさん：そうだよね。私は、スマホがなかったら買い物もできないよ。それに、コロナで自宅待機だった時の、インターネットでのオンライン授業も助かったな。

Aさん：インターネットやスマートフォンはまさに情報技術革命の象徴だね。

Bさん：これからはコンピュータやスマホだけじゃなくて、あらゆるモノに通信機能をもたせる（①）という技術が進むみたいだね。私の家では、家電製品をスマホから操作もできて、家族が助かっているよ。

Aさん：AI技術の進化もあり、もうすぐ、現実空間と仮想空間を高度に融合させた、「（②）」が到来すると言われているね。より便利で安全な新しい社会がやってくるね。中学生の私たちが、100歳になる頃の社会は、いったいどのような社会になっているのか楽しみだね。

問4 会話文中の空欄（①）と（②）に入れる語句の組み合わせとして、適するものを1つ選び、記号で答えなさい。

- ア ① ICT ② Society 4.0 イ ① IoT ② Society 5.0
- ウ ① IoT ② Society 3.0 エ ① ICT ② Society 2.0