

令和6年度

日章学園

鹿児島育英館高等学校

入学試験問題

社 会

(時間 45 分)

(注 意)

- 1 「始め」の合図があるまで、このページ以外のところを見てはいけません。
- 2 問題は、6 ページです。解答用紙は1 枚です。
- 3 「始め」の合図があったら、まず解答用紙に受験番号、中学校名と氏名を記入しなさい。
- 4 答えは、必ず解答用紙に記入しなさい。
- 5 印刷がはっきりしなくて読めないときは、だまって手をあげなさい。
問題内容や答案作成上の質問は認めません。
- 6 「やめ」の合図があったら、すぐ鉛筆をおき、解答用紙だけを裏返しにして、机の上におきなさい。

1 問1～問10に答えなさい。

I 次の表は、世界の面積上位の国を挙げたものです。各問いに答えなさい。

順位	記号 国名	面積 (千km ²)	人口 (千人)	1人あたり GNI (ドル)
1	A	17,098	145,103	10,740
2	カナダ	9,985	38,155	43,540
3	B	9,834	336,998	64,140
4	C	9,600	1,425,893	10,530
5	D	8,516	214,326	7,800
6	E	7,692	25,921	53,680
7	F	3,287	1,407,564	1,910
8	アルゼンチン	2,796	45,277	9,080

(統計要覧2023年版より)

問1 表中の国々で、アジア州に属する国をすべてあげ、記号もしくは国名で答えなさい。

問2 表中のアルゼンチンのある大陸とA国がある大陸との間にある、海洋名を答えなさい。

問3 現在はイギリス連邦の一員であり、小麦や羊の農牧業が盛んなE国は、世界の中でも人口密度が最も低い国の一つである。その人口密度 (人/km²) の値として、最も近いものを、次の中から選び、記号で答えなさい。

ア 0.3 イ 3 ウ 30 エ 300 オ 3000

問4 次の各文は、表中のD国とF国について説明した文です。空欄に適する語句を入れなさい。

D国：鉄鉱石やコーヒーなどの世界的生産・輸出国であるこの国は、明治時代から多くの日本人が移住し、現在も多くの (ア) 人が住んでいる。

F国：近年経済発展著しいこの国は、米・小麦・綿花・茶などの世界有数の生産国である。また、工業では鉄鋼業や自動車工業が盛んで、近年は、情報通信技術 (ICT) 産業も発達している。宗教は国民の8割が (イ) 教徒である。

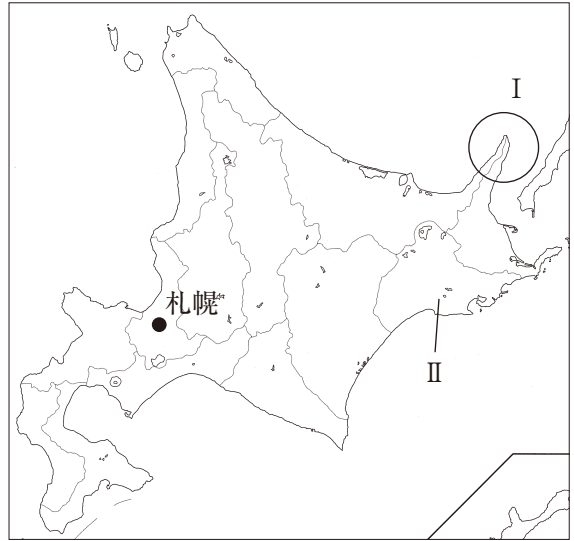
問5 表中のB国の北緯37度以南の地域は、先端技術産業や情報通信技術産業が発達している。この地域の名称を答えなさい。また、この地域が発展した背景にはどのようなことがあると考えられるか、理由を一つ挙げなさい。

II 次の北海道地方の略地図1を見て、各問いに答えなさい。

略地図1

問6 次の文を読んで、空欄①・②に、最も適する語句をそれぞれ入れなさい。

江戸時代までこの地方は蝦夷地と呼ばれ、古くから先住民族の（①）民族が生活していた。明治時代になり、政府はこの地方の広大な土地が農業に向いており、資源の確保もできると考え、開拓使という官庁を札幌に置き、（②）兵を送るなど開拓を始めた。



問7 略地図1中のI・IIはそれぞれ半島と湿原を示したものである。半島名、湿原名の組み合わせとして正しいものを、次の中から選び、記号で答えなさい。

- ア I 根室半島 II 釧路湿原 イ I 根室半島 II 石狩湿原
 ウ I 知床半島 II 釧路湿原 エ I 知床半島 II 石狩湿原

問8 次の写真1の[]は、この地方にある道路の標識です。この標識の役割を説明しなさい。



写真1

問9 次の表は、北海道地方が生産上位を占めるバレイショ・小麦・米・大豆の総生産量を表した表である。生産上位の都道府県を参考にして、バレイショと小麦の番号をそれぞれ答えなさい。

	①	②	③	④
1位	北海道	北海道	北海道	新潟
2位	福岡	宮城	長崎	北海道
3位	佐賀	秋田	鹿児島	秋田
4位	愛知	滋賀	茨城	山形
5位	三重	青森	千葉	宮城
総生産量	10970 (百 t)	2465 (百 t)	2205 (千 t)	7563 (千 t)

(統計要覧2023年版より)

問10 略地図1中の札幌市では、「パークアンドライド」を取り入れている。以下の文章は、札幌市交通事業会社のホームページから引用したものです。空欄Aに入る「パークアンドライド」の効果を1つあげなさい。

「パークアンドライド」とは、自宅から地下鉄駅まで自動車を利用し、駅の近くに駐車（パーク）して地下鉄などの公共交通機関に乗り継いで（ライド）目的地に通勤・通学する方法のことをいいます。これにより、通勤等の都心直行型の自動車交通が公共交通機関へ転換され、（ A ）が図られます。

当会社では地下鉄駅の周辺に8カ所のパークアンドライド駐車場を、ご自宅から駐車場まで1km以上の距離があり、通勤や通学で地下鉄への乗り継ぎ利用をするお客様向けの駐車場として運営しております。

2 問1～問11に答えなさい。

I 次の表は、日本の世界遺産登録地についてまとめたものである。これを見て後の問いに答えなさい。

世界遺産名	まとめ
百舌鳥・古市古墳群	4世紀後半から5世紀後半にかけて200基を超える <u>a</u> 古墳が作られた。
富士山	古代から現代まで絵画や文学の題材にされるほか、 <u>b</u> 鎌倉時代には信仰の対象として形が確立した。
長崎と天草地方の潜伏キリシタン関連遺産	江戸時代の17世紀から19世紀まで、 <u>c</u> 厳しい禁教政策の中、 <u>信仰を守り続けた人々がいた。</u>
明治日本の産業革命遺産	19世紀後半から20世紀にかけて、日本は <u>d</u> 急速な産業化を成し遂げた。

問1 下線部aについて述べた文として正しいものを、次から1つ選び、記号で答えなさい。

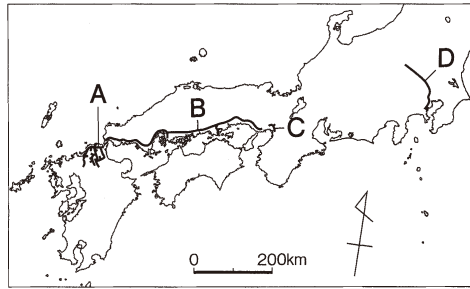
- ア 古墳の多くは、地表面に樹木が植えられ、土偶が置かれた。
- イ 古墳から発見された武器には、大和政権の王は天皇と刻まれていた。
- ウ 5世紀に造られた大仙古墳は、大和政権の王の古墳と言われている。
- エ 前方後円墳は、近畿地方を中心に分布し、北海道や九州地方にはない。

問2 下線部bについて、この頃に登場した新仏教の組み合わせとして正しいものを、下記の表から選び、番号を答えなさい。

	開祖	主要著書	宗派
①	法然	『教行信証』	浄土宗
②	一遍	『正法眼蔵』	時宗
③	栄西	『選択本願念仏集』	臨済宗
④	日蓮	『立正安国論』	日蓮宗

問3 下線部cについて、この頃におこった「島原の乱」において、大将を務めた人物は誰か、答えなさい。

問4 下線部dについて、地図中のA～Dは、1919年における鉄道の一部を示している。次のア～エの文はA～Dのいずれかの鉄道の役割について述べたものである。AとCに当てはまるものを、それぞれ選び、記号で答えなさい。



- ア かつて「天下の台所」と呼ばれた上方の大都市と郊外とを電車で結び、駅を中心に住宅や観光施設が建てられるなど、沿線開発の役割を果たした。
- イ 江戸時代に発達した西廻り航路の一部と競合する形で、外国人居留地があった都市を起点に西へ路線を延ばし、沿線にある港や軍事拠点を結び、陸上輸送手段としての役割を果たした。
- ウ 日清戦争後にドイツの技術を導入した官営製鉄所が建てられた地域と、炭鉱の開発が進んだ周辺の炭田地帯と結び、石炭輸送の役割を果たした。
- エ フランスの技術を導入した官営模範工場が建てられた生糸の生産地と、生糸輸出の中心となった貿易港とを結び、外貨獲得のための生糸の輸送を拡大する役割を果たした。

II 次の年表は、2023年のNHK大河ドラマ「どうする家康」の主人公徳川家康の一生を表したものである。これを見て、後の問に答えなさい。

西暦	出来事
1542年	a 三河で誕生する。
1547年	人質としてb尾張へ送られる。
1603年	c 征夷大將軍になり、d江戸幕府を開く。
1614年	大坂の陣がおきる。
1616年	75歳で病死する。

- 問5 下線部a, bについて、この2カ国は現在のどの都道府県にあたるか、答えなさい。
- 問6 下線部cについて、この当時では武士の長が就く役職となったが、発足当初のこの役職の目的を簡潔に答えなさい。
- 問7 下線部cについて、この役職に就いた人物で、802年に首長アテルイを降伏させた人物は誰か。
- 問8 下線部dについて、江戸幕府は鎖国という体制をとり、外国船の来航を制限したが、その中でも来航が認められていた国を2カ国あげなさい。
- 問9 上記問8について、1858年にその1国と修好通商条約を締結したが、それは不平等条約であった。次の文の①・②に当てはまる語句の組み合わせとして、正しいものを選び、記号で答えなさい。

【①を認め、日本に②がない】

- ア ① 関税自主権 ② 生存権 イ ① 生存権 ② 領事裁判権
- ウ ① 領事裁判権 ② 関税自主権

問10 江戸時代に設けられた身分制度を何というか。下記の中から正しいものを選び、記号で答えなさい。

- ア カースト制度 イ 四民平等 ウ 士農工商 エ 官位相当制

問11 鎖国が終わり開港した当時の金銀比価は下記の通りである。その当時の金銀比価の影響から日本の金貨が外国に流出し、洋銀が流入した。幕府は金貨の流出を防ぐために貨幣改鋳を行った。その結果、物価は上がったか、下がったか答えなさい。また、その理由を、「貨幣」・「品質」の語句を用いて簡潔に答えなさい。

(当時の金銀比価 日本 金：銀 = 1：5 外国 金：銀 = 1：15)

3 次のⅠ・Ⅱの各問いに答えなさい。

Ⅰ 下の日本国憲法の条文を読んで、あとの問いに答えなさい。

第3条 天皇の（ a ）に関するすべての行為には、内閣の助言と承認を必要とし、内閣が、その責任を負う。

第13条 すべて国民は、個人として尊重される。生命、自由及び幸福追求に対する国民の権利については、b 公共の福祉に反しない限り、立法その他の国政の上で、最大の尊重を必要とする。

第26条 ①すべて国民は、法律の定めるところにより、その能力に応じて、ひとしく教育を受ける（ c ）を有する。

②すべて国民は、法律の定めるところにより、その保護する子女に普通教育を受けさせる（ d ）を負う。（d）教育は、これを無償とする。

第32条 何人も裁判所においてe 裁判を受ける権利を奪われない。

問1 条文中の（ a ）に関して、（1）と（2）について、答えなさい。

（1）（ a ）に当てはまる語句を答えなさい。

（2）（ a ）に関する行為として、適切なものを、次の中から1つ選び、記号で答えなさい。

ア 衆議院を召集すること。

イ 参議院を解散すること。

ウ 国会議員の総選挙の施行を告示すること。 エ 外国の大使及び公使を接受すること。

問2 下線部 b の公共の福祉による制限として、当てはまらないものを、次の中から1つ選び、記号で答えなさい。

ア 公職選挙法により、選挙運動のため一定枚数のはがきやビラ、届け出た冊子以外の文書の頒布の禁止をする。

イ 公安条例により、デモに対する規制が行われている。

ウ 国家公務員法、地方公務員法により、全ての公務員に、団結権を認めていない。

エ 土地収用法により、道路や空港建設のために補償のもとで土地を取用できる。

問3 条文中の（ c ）・（ d ）に、当てはまる語句をそれぞれ答えなさい。

問4 下線部 e の裁判について、あるグループは司法制度を調べ発表しました。次の司法制度改革についての生徒同士の発表のやりとりを読み、（1）と（2）について、答えなさい。

Aさん 日本の裁判は、時間やお金がかかることや、弁護士が身近でないことも多いため、司法制度改革が進められたのだね。

Bさん 司法制度改革は、どのような改革なの。

Aさん 国は、司法制度改革の柱として、法科大学院の設置と法曹人口の大幅増。裁判員制度による市民の司法参加。裁判制度の改革。この3つを掲げ改革をしたんだって。

Cさん f 裁判員制度で、国民の感覚が裁判の内容に反映されるようになったと資料に書いてあるよ。他に、被害者や遺族の声を裁判に反映させるために、g 被害者参加制度が始まったのだよね。

（1）下線部 f の裁判員制度に関して、審理予定日数の長短で、裁判員候補者の辞退率の増減がどう変化すると予想されるか。あなたの考えを簡潔に答えなさい。

(2) 下線部 g の被害者参加制度の説明として、適切なものを、次の中から1つ選び、記号で答えなさい。

- ア 刑事裁判，民事裁判では，被害者として参加できるが，行政裁判には，被害者参加制度は適用されない。
- イ 被害者や遺族，その代理人は法廷で，被告人に直接質問したり，刑罰の重さについて意見を述べたりすることができる。
- ウ 被害者参加の対象となる事件には，故意の犯罪行為により人を死傷させた事件の他，宝石店や時計店で高額な商品を窃盗した事件なども含まれる。
- エ 被害者の感情が裁判に影響を与えており，近いうちに廃止される予定である。

II 下の文を読んで，あとの問いに答えなさい。

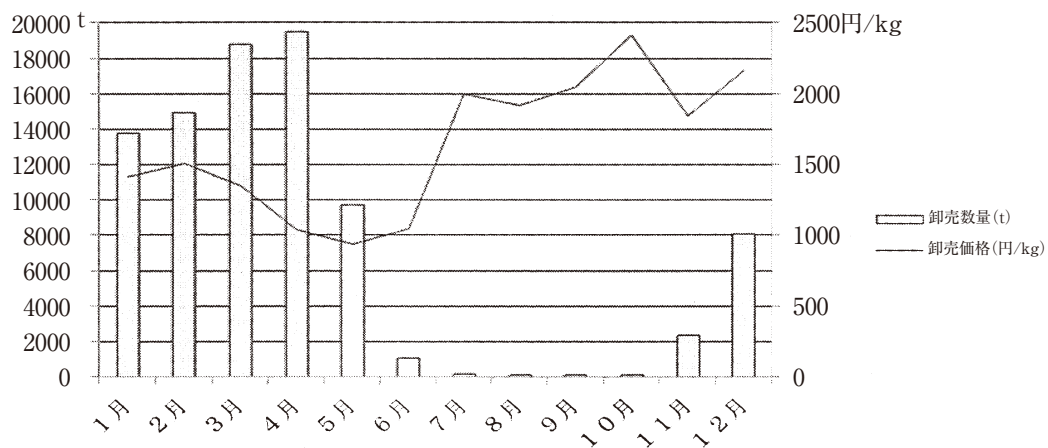
(a) 経済においては価格が重要な役割を演じている。価格の第1の役割は，商品のb需要と供給を調整することである。そして，第2の役割は，生産資源の効率的な配分を達成することにある。また，(a) 経済では価格の変動をとおして需給が調整されるといっても，調整の速さはすべての商品について同じだというわけではない。特に独占化が進行したc寡占市場では，数社がその製品の生産や売り上げの大半を占めるため，価格が下がりにくい傾向がある。

問5 文中の空欄 (a) に当てはまる語句を答えなさい。

問6 下線部 b の需要と供給の関係に関して，(1) と (2) について，答えなさい。

- (1) ある商品の需要量が供給量を上回ると，一般に価格はどうなるかを「上昇する」あるいは「下降する」のどちらかで答えなさい。
- (2) 下のグラフ I は，2020年に発表された，農林水産省の「青果物卸売市場調査」データをもとに，2019年のイチゴの出荷状況についてまとめたものです。卸売数量と卸売価格の関係を簡潔に説明しなさい。

グラフ I [イチゴ] 主要都市の月別卸売数量・卸売価格



出典 農林水産省「青果物卸売市場調査（令和元年年間計及び月別結果）」

問7 下線部 c について，特に日本の寡占市場の例として，該当しないものを，次の中から1つ選び，記号で答えなさい。

- ア 携帯電話サービス イ パソコン ウ 乗用車 エ スーツ

