

令和4年度
日章学園
鹿児島育英館高等学校

入学試験問題

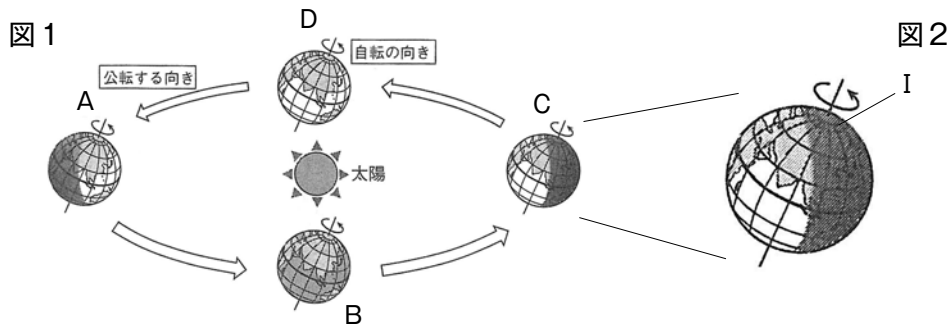
社 会

(時間 45 分)

(注 意)

- 1 「始め」の合図があるまで、このページ以外のところを見てはいけません。
- 2 問題は、6 ページです。解答用紙は1 枚です。
- 3 「始め」の合図があったら、まず解答用紙に受験番号、中学校名と氏名を記入しなさい。
- 4 答えは、必ず解答用紙に記入しなさい。
- 5 印刷がはっきりしなくて読めないときは、だまって手をあげなさい。
問題内容や答案作成上の質問は認めません。
- 6 「やめ」の合図があったら、すぐ鉛筆をおき、解答用紙だけを裏返しにして、机の上におきなさい。

1 次の図や文を読んで、問1～問11に答えなさい。



問1 次の地球の動きを示した図1を見て、A～Cそれぞれの位置の時の北半球の季節の組み合わせとして正しいものを、次の中から選び、記号で答えなさい。

ア A：夏 B：春 C：冬 イ A：夏 B：秋 C：冬

ウ A：冬 B：春 C：夏 エ A：冬 B：秋 C：夏

問2 図2のIの地域では、ある季節に夜空が暗くならず、うす明るい状態が続く現象が見られる。この現象を何というか。

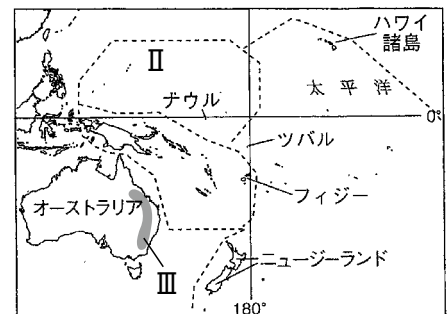
問3 略地図1中のⅡ・Ⅲはそれぞれ地域・山脈を示したものである。地域名・山脈名の組み合わせとして正しいものを、次の中から選び、記号で答えなさい。

ア Ⅱ ポリネシア Ⅲ グレートアーテジアン山脈

イ Ⅱ ポリネシア Ⅲ グレートディバイディング山脈

ウ Ⅱ ミクロネシア Ⅲ グレートアーテジアン山脈

エ Ⅱ ミクロネシア Ⅲ グレートディバイディング山脈



略地図1

問4 次の表1は各国の小麦の収穫時期を表したものです。これを見ると、略地図1中のオーストラリアだけ、収穫時期が異なる。それはなぜですか、理由を説明しなさい。

表1

国	月	1	2	3	4	5	6	7	8	9	10	11	12
日本							■	■	■				
インド				■	■	■							
フランス							■	■	■				
アメリカ合衆国								■	■	■	■		
オーストラリア	■											■	■

問5 次の図3は略地図1中のオーストラリアの国旗です。この国旗には、オーストラリア以外の国旗がデザインされている。その国とはどこですか、国名を答えなさい。また、なぜ、他国の国旗がデザインされているのか、その理由も答えなさい。



図3

問6 次の表は、オーストラリア・日本・フランス・ブラジルの発電量の割合を示した表である。オーストラリアの発電量の割合として正しいものを、次の中から選び番号で答えなさい。

番号	①		②		③		④	
発電量の割合(%)	火力	8.6	火力	79.4	火力	16.8	火力	85.4
	水力	11.7	水力	8.0	水力	65.8	水力	6.0
	原子力	72.5	原子力	1.7	原子力	2.7	原子力	...

(2020年版地理統計要覧より)

問7 写真1は、1987年当時の日本の沖ノ鳥島の写真である。写真2は2006年以降の写真で、護岸工事が行われている。この島をなぜここまでして守らなければならないのか、その理由を説明しなさい。



写真1



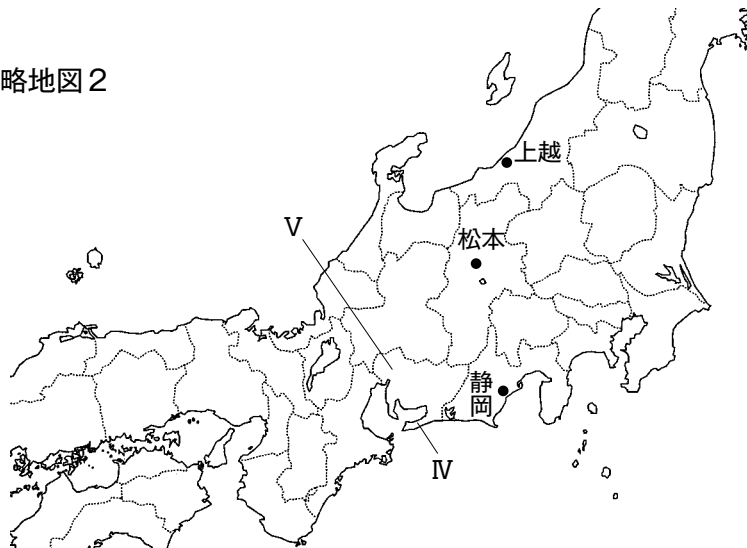
写真2

問8 次の表は、大阪府・京都府・愛知県・静岡県の面積・人口・農業産出額・工業出荷額を示したものです。表中の①～④の中から、愛知県として正しいものを選び、番号で答えなさい。

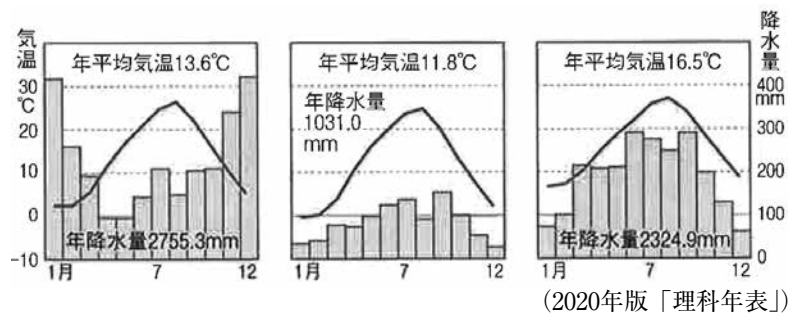
	①	②	③	④
面積 (km ²)	5173	4612	7777	1905
人口 (万人)	755	258.3	364.4	880.9
農業産出額 (億円)	3115	704	2120	332
工業出荷額 (億円)	489829	59924	176639	179052

(2020/21年版「日本国勢図会」より)

略地図2



問9 次の雨温図は略地図2中の上越・松本・静岡のものです。雨温図と都市の組み合わせとして正しいものを、次の中から選び、記号で答えなさい。



- ア ①上越 ②松本 ③静岡 イ ①上越 ②静岡 ③松本
 ウ ①松本 ②上越 ③静岡 エ ①松本 ②静岡 ③上越
 オ ①静岡 ②松本 ③上越 カ ①静岡 ②上越 ③松本

問10 写真3は、IVの地域で行われる電照菊の栽培の様子である。なぜ、写真のように照明を利用した栽培方法を行うのか、その理由を説明しなさい。なお、必ず「開花時期」という言葉を使用すること。

問11 略地図2中のVの平野名を答えなさい。また、この平野に見られる、図4のような堤防で囲まれた集落のことを何というか、答えなさい。



写真3



図4

2 次の年表や文を読んで、〈I〉・〈II〉の問1～問10に答えなさい。

〈I〉右の年表を見て、次の各問いに答えなさい。

問1 Xの国から倭の奴国に授けられたとされる金印に刻まれた文字を漢字5字で答えなさい。

問2 Yが魏の皇帝から与えられた称号を、次の中から選び、記号で答えなさい。

- ア 日本国王 イ 邪馬台国王
ウ 親魏倭王 エ 親倭魏王

問3 次のできごとが起きた時期を、年表中のA～Eから選び、記号で答えなさい。

【倭は百済の復興を助けるため朝鮮半島に大軍を送ったが、白村江の戦いに敗れた。】

問4 次の資料は、下線部aのところに摂政となった厩戸王が定めた十七条の憲法の一部です。①、②にあてはまる語句の正しい組み合わせを、次の中から選び、記号で答えなさい。

年代	できごと
57	倭の奴国の王がXに使いを送る
239	邪馬台国のYが魏に使いを送る A
478	倭王武が中国の南朝に使いを送る B
607	a <u>小野妹子らを隋に送る</u> C
701	b <u>大宝律令</u> が定められる D
710	平城京に都を移す E
794	平安京に都を移す
894	c <u>遣唐使の派遣を停止する</u>

一に曰く、[①]を以て貴しとなし
二に曰く、あつく三宝を敬え。三宝とは [②]・法・僧なり。

- ア ① 智 ② 神 イ ① 和 ② 仏
ウ ① 仏 ② 寺 エ ① 仁 ② 律

問5 下線部bは、唐の律令にならってつくられました。唐の律令における律と令は、それぞれ何のきまりのことですか。正しい組み合わせを、次の中から選び、記号で答えなさい。

- ア 律 刑罰のきまり 令 政治のきまり イ 律 刑罰のきまり 令 役人のきまり
ウ 律 外交のきまり 令 政治のきまり エ 律 外交のきまり 令 役人のきまり

問6 下線部cに関して、遣唐使の派遣を停止した理由について、「唐」・「航海」という語句と、このことを進言した人物の名前を用いて、45字以内で簡潔に説明しなさい。

〈Ⅱ〉中世のヨーロッパと日本について、次の各問いに答えなさい。

問7 14世紀ごろのイタリアでは、古代のギリシャ・ローマの文明を学び直し、人間の個性や自由を表現しようとする学問・芸術がさかんになりました。このことを何といいますか。漢字4字で書きなさい。

問8 次の年表中の①、②にあてはまる国はどこですか。その組み合わせとして正しいものを、次の中から選び、記号で答えなさい。

年代	できごと
1492	[①] の援助を受けたコロンブスが大西洋を横断する
1498	[②] のバスコ・ダ・ガマが喜望峰をまわってインドに到達する
1522	マゼランが率いる船隊が、世界一周を達成する

ア ① スペイン ② ポルトガル イ ① スペイン ② イタリア

ウ ① ポルトガル ② スペイン エ ① ポルトガル ② イタリア

問9 年表中の①や②の国々は、ヨーロッパでは豊かさの象徴となっていた貴重な農産物を求めてアジアをめざしました。その農産物とは何ですか。漢字3字で書きなさい。

問10 カトリック教会のイエズス会が、日本に宣教師ザビエルを送り、布教活動をはじめた目的について、「宗教改革」「キリスト教」「植民地」の語句を使って、50字以内で答えなさい。

3 次の〈Ⅰ〉・〈Ⅱ〉の問1～問7に答えなさい。

〈Ⅰ〉次の『日本国憲法』の条文を読んで、あとの問いに答えなさい。

第42条 国会は、a衆議院及び参議院の両議院でこれを構成する。

第65条 行政権は、b内閣に属する。

第66条② 内閣総理大臣その他の国务大臣は、(1) でなければならない。

第92条 地方公共団体の組織及び運営に関する事項は、c地方自治の本旨に基いて、法律でこれを定める。

第94条 地方公共団体は、その財産を管理し、事務を処理し、及び行政を執行する権能を有し、法律の範囲内で(2) を制定することができる。

問1 (1) ・(2) に適する語句をそれぞれ答えなさい。

問2 下線部 a に関して、衆議院の選挙制度を答えなさい。

問3 下線部 b に関して、内閣の権限として適当でないものを、次の中から選び、記号で答えなさい。

ア 政令の制定権 イ 条約承認権 ウ 外交関係の処理権 エ 予算の作成権

問4 下線部 c に関して、地方自治の本旨には2つある。それは、団体自治とあと一つは何か、答えなさい。

〈Ⅱ〉 次の各問いに答えなさい。

問5 Aさんは、2017年から2018年にかけての国会の動きを調べ、次の表にまとめてみた。表中の X Z には、下のア～ウのいずれかが入る。あてはまる語句を、次の中からそれぞれ選び、記号で答えなさい。

ア 通常国会 イ 臨時国会 ウ 特別国会

2017年6月22日	野党4党、 <input type="checkbox"/> X 召集を要求。
9月28日	<input type="checkbox"/> X 召集。冒頭で衆議院が解散される。
10月10日	第48回衆議院総選挙が公示される。
10月22日	第48回衆議院総選挙が実施される。
11月1日	<input type="checkbox"/> Y 召集。衆議院本会議で安倍晋三を内閣総理大臣に指名。
11月17日	安倍晋三内閣総理大臣による所信表明演説。
12月9日	<input type="checkbox"/> Y 閉会。
2018年1月22日	<input type="checkbox"/> Z 召集。安倍晋三内閣総理大臣による施政方針演説。
3月28日	2018年度予算が成立
7月22日	<input type="checkbox"/> Z 閉会。

問6 民主主義の制度には、直接民主主義と間接民主主義があるが、社会の授業で、「直接民主主義を支持するグループ」と「間接民主主義を支持するグループ」に分かれて討論することになった。

この討論に関して、まず、あなたがどちらのグループに入るかを1つ選び、「直接民主主義を支持するグループ」に入る場合には①、「間接民主主義を支持するグループ」に入る場合は②を選び、解答欄のグループ分けの欄に書きなさい。①と②のどちらを選んでも構いません。

そのうえで、次の(1)と(2)について、答えなさい。

(1) あなたが支持するとして選んだ民主主義は、現在の日本においてどのような制度として採用されているか。最も適しているものを、次の(あ)・(い)から1つ選び、記号で答えなさい。

(あ) 1つの地方公共団体に適用される特別法を制定するかどうかについて投票を通じて参加する制度

(い) 地方公共団体において適用される条例を制定することに地方議会の議員を通じて参加する制度

(2) 国政の場において、あなたがその民主主義を支持する理由を次のA～Dのうちから2つ選び、その組合せとして最も適するものを、下の(ア)～(カ)から1つ選び、記号で答えなさい。

A 制度を整えて、現在の情報技術を活用すれば、有権者が賛成・反対の意思を示した結果を集計するのに時間はかからないと思うから。

B 日本国憲法の前文が規定しているように、政治は国民から信託された代表者が担うべきであると思うから。

C 現在の選挙制度では、国会での議論の進め方や採決のしかたが民意を常に正確に反映しているとは考えられないから。

D これからの国政を左右する重要な問題について、市民全員が十分な知識を持って投票に参加することは難しいと考えられるから。

(ア) AとB (イ) AとC (ウ) AとD (エ) BとC (オ) BとD

(カ) CとD

問7 次の(あ)～(う)の会話文を読み、均衡価格に一番近いと思われる価格が書いてある会話文を選び、記号で答えなさい。

(あ) Aさんは、りんごを買いに行った。果物屋さんには、りんごが5個あった。Aさんは1個

200円で3個買おうと思っていたが、Bさんが、どうしても5個欲しいので、1個400円で買う
といた。果物屋さんは、そのBさんに、1個400円で全部売ってしまった。

(い) 次の日もAさんは、りんごを買いに行った。果物屋さんには、りんごが5個あった。Aさん
は、1個200円で3個買おうと思っていたが、果物屋さんは、閉店時間間近で他にお客さん
もいないから、全部買うなら1個100円で売るよ、と言った。そこで、Aさんは、1個100円で
5個買うことにした。

(う) その次の日もAさんはりんごを買いに行った。果物屋さんには、りんごが5個あった。A
さんは1個200円で3個買おうと思っていた。そこにCさんが来て、1個200円で2個欲しいと
言った。Aさんは1個200円で3個買うことができた。また、Cさんも1個200円で2個買った。

